

4

Na vozišču, prikazanem na sliki, obstoja velika nevarnost:


- poledice;
- akvaplaninga (drsenja na vodi).



4

Kaj pomeni rdeča zastavica v roki delavca, ki stoji na cesti?

- moram ustaviti;
- previdno nadaljujem vožnjo;
- zapeljati moram v levo.



2

Do kdaj ste voznik začetnik?

- do dopolnjenega 18 leta starosti oziroma 1 leto od pridobitve voznškega dovoljenja;
- do dopolnjenega 21 leta starosti oziroma 2 leti od pridobitve voznškega dovoljenja;
- do dopolnjenega 23 leta starosti oziroma 3 leta od pridobitve voznškega dovoljenja.

5

Kako mora voznik v situaciji, prikazani na sliki, ravnati pri vožnji:

- voziti z zmanjšano hitrostjo in skrajno previdno;
- močno zavirati;
- vožnjo nadaljevati z nezmanjšano hitrostjo.



5

Ali smete prehiteti osebni avtomobil in kolesarja, v situaciji, prikazani na sliki?

- da;
- ne.



OCENA:

PODPIS OCENJEVALCA:

Število točk: _____ je – ni opravil(a) _____

Ime in priimek _____ Podpis _____ Datum _____

NAVODILO ZA REŠEVANJE TESTA

Na teoretičnem delu voznškega izpita je potrebno odgovoriti na več vprašanj. Pomen prometnih znakov označite tako, da v kvadrat pod prometnim znakom vpišete tisto številko, ki v opisih pod prometnimi znaki označuje pravilni pomen. Na vprašanja odgovorite tako, da vpišete znak (X) v kvadrat pred **pravilnim odgovorom**. Pri ostalih vprašanjih vpišite odgovor v določen prostor. Če na vprašanje ne odgovorite ali ne označite odgovora, pomeni, da niste pravilno odgovorili.

Na črto vpišite razdaljo od kraja postavitve prometnega znaka (izven naselja) do kraja, ki ga označuje!

3



..... m

3



..... m

3



..... m

Označite pomen prometnih znakov!

4




4



4



4



4



4



3



4



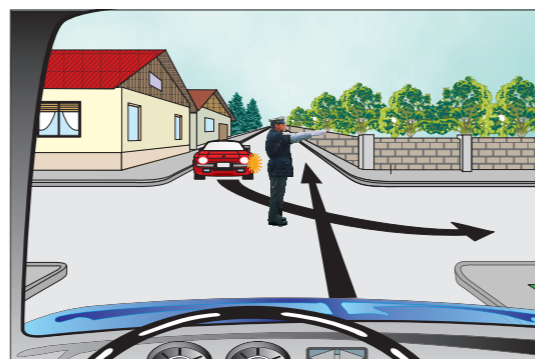
01. Prehod ceste čez železniško progo brez zapornic ali polzapornic
02. Konec avtomobilske ceste
03. Prepovedano zaviti na levo
04. Prehod ceste čez železniško progo z zapornicami ali polzapornicami
05. Prepovedano polkrožno obračanje
06. Dovoljena smer
07. Mesto, kjer je prehod za pešce
08. Obvezna uporaba snežnih verig, kadar je na vozišču sneg
09. Čelna zapora
10. Prednostna cesta
11. Ustavi
12. Prepovedan promet za osebne avtomobile
13. Prepovedan promet v eno smer
14. Konec ceste, rezervirane za motorna vozila
15. Prepovedan promet za vsa vozila v obe smeri
16. Obvezna vožnja mimo po desni strani

B (1.0)

5

Kako ravnate v tej situaciji?

- počasi prevozim križišče pred rdečim osebnim avtomobilom;
- spremenim smer vožnje in zavijem v desno;
- ustavim.



5

Označite vrstni red vožnje skozi križišče!

- voznik modrega avtomobila, voznik rdečega avtomobila, jaz;
- voznik rdečega avtomobila, jaz, voznik modrega avtomobila.



5

Kaj pomeni rumena luč na semaforju, ki ne utripa?

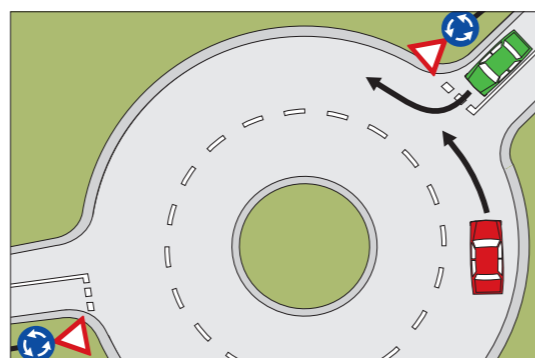
- ustaviti moram vozilo, razen če tega ni mogoče varno storiti;
- lahko nadaljujem vožnjo, ker se bo prižgala zelena luč.



5

Ali sme zapeljati voznik zelenega avtomobila na krožno križišče?


- sme, saj se mu mora voznik rdečega avtomobila umakniti na notranji prometni pas;
- ne sme, ker bi s tem ogrozil sebe in voznika rdečega avtomobila, ki ima prednost pred njim;
- sme, saj ima kot desni prednost pred voznikom rdečega avtomobila.



5

Ali smem prevoziti prehod za pešce pred pešci, ki prečkajo cesto?

- da;
- ne.



5

Kako ravnate v tej situaciji?

- peljem z nezmanjšano hitrostjo;
- zmanjšam hitrost zaradi blata na vozišču.



3


Tovor, ki sega več kot 1 m preko najbolj oddaljene točke na zadnji strani osebnega avtomobila, mora biti ponoči in ob zmanjšani vidljivosti na najbolj izpostavljeni točki označen:

- z varnostnim trikotnikom in z rdečo neslepečo lučjo;
- s tablo (25 x 25 cm), pobarvano izmenično s poševnimi trakovi oranžne in bele barve, ki odseva svetlobo, nameščeno prečno na smer vožnje.

3

Kaj pomeni prometni znak?

- voznika obvešča, da se mora ravnati po sistemu zadrge (izmenično vključevanje vozil);
- voznika obvešča, da ima prednost vozilo na levem prometnem pasu;
- voznika obvešča, da ima prednost vozilo na desnem prometnem pasu.



3

Najmanj koliko mm morajo biti globoki žlebovi na poletnih pnevmatikah osebnega avtomobila?

- 1,6 mm;
- 2 mm;
- 4 mm.

3

Pri vidljivosti, manjši od 50 m, vozite:

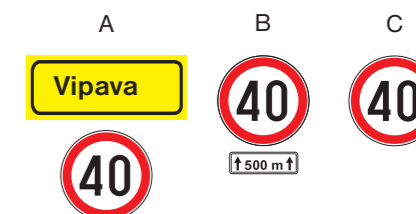
- z žarometi z dolgim snopom svetlobe;
- z zasenčenimi žarometi in/ali žarometi za meglo;
- samo s pozicijskimi lučmi.



4

Kateri znak omejuje hitrost skozi celo naselje na 40 km/h?

- znak pod A;
- znak pod B;
- znak pod C.



4

Ali je od znaka naprej dovoljeno ustaviti vozilo?

- da;
- ne.

