

**4 Do kod velja prometni znak iz skupine izrecnih odredb?**


- do prvega naselja;
- do znaka, ki ga preključuje, ali do prvega križišča;
- do prvega prevoja ceste.



**3 Ali je voznik ustavil pravilno?**


- da;
- ne.



**3 Namen varnostnega pasu in vzglavnika v avtomobilu je:**

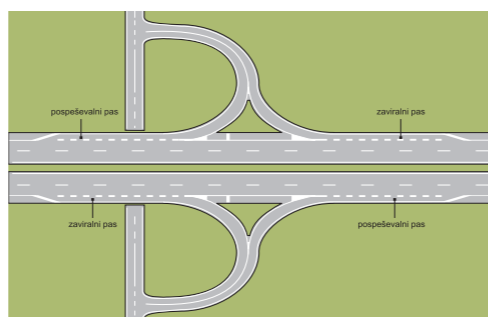
  
  


- da voznika in potnike zaščiti pred poškodbami v primeru prometne nesreče;
- da onemogoči gibanje otrok v vozilu, ker bi lahko motili voznika med vožnjo;
- da zadrži voznika in potnike na sedežih pri nagli vožnji skozi ovinke.

**5 Pospeševalni pas je namenjen pospeševanju vozila na primerno hitrost pred vključitvijo v prometni tok na cesti. Pri tem je potrebno:**


- ustaviti na koncu pospeševalnega pasu;
- s pogledom v levo preveriti dogajanje na prometnem pasu;
- močno pospešiti vozilo in se vključiti v prometni tok, ne glede na dogajanje na prometnem pasu.



**4 Znak policista, ki kroži z roko v podlahti, pomeni:**


- pospešim hitrost;
- zmanjšam hitrost;
- ustavim pred križiščem.



**3 Katera od navedenih vozil smete voziti z vozniškim dovoljenjem za vožnjo motornih vozil kategorije B?**


- osebne avtomobile in tovorna vozila do največje dovoljene mase 3500 kg;
- motorna kolesa do 125 ccm in osebne avtomobile.

**2 V katerem primeru mora voznik osebnega avtomobila ugasniti motor?**


- kadar se ustavi pred semaforjem, na katerem gori rdeča luč;
- kadar se ustavi pred prometnim znakom »Ustavi«;
- kadar ustavi ali parkira za več kot 3 minute.

OCENA:

PODPIS OCENJEVALCA:

Število točk: \_\_\_\_\_ je – ni opravil(a) \_\_\_\_\_

Ime in priimek \_\_\_\_\_ Podpis \_\_\_\_\_ Datum \_\_\_\_\_

**NAVODILO ZA REŠEVANJE TESTA**

Na teoretičnem delu voznškega izpita je potrebno odgovoriti na več vprašanj. Pomen prometnih znakov označite tako, da v kvadrat pod prometnim znakom vpišete tisto številko, ki v opisih pod prometnimi znaki označuje pravilni pomen. Na vprašanja odgovorite tako, da vpišete znak (X) v kvadrat pred **pravilnim odgovorom**. Pri ostalih vprašanjih vpišite odgovor v določen prostor. Če na vprašanje ne odgovorite ali ne označite odgovora, pomeni, da niste pravilno odgovorili.

Na črto vpišite razdaljo od kraja postavitve prometnega znaka (izven naselja) do kraja, ki ga označuje!

|         |   |         |   |         |   |
|---------|---|---------|---|---------|---|
| 3       |  | 3       |  | 3       |  |
| ..... m |   | ..... m |   | ..... m |   |

Označite pomen prometnih znakov!

|   |   |   |   |   |   |   |   |
|---|---|---|---|---|---|---|---|
| 4 |  | 4 |  | 4 |  | 4 |  |
|   | <input type="text"/>  |   | <input type="text"/>  |   | <input type="text"/>  |   | <input type="text"/>  |
| 4 |  | 2 |  | 4 |  | 4 |  |
|   | <input type="text"/>  |   | <input type="text"/>  |   | <input type="text"/>  |   | <input type="text"/>  |

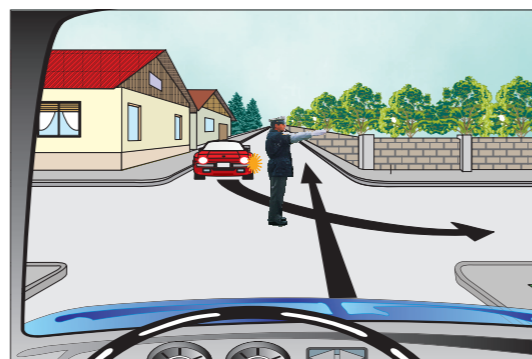
1. Prepovedan promet za kolesarje
2. Zoženje ceste z leve strani
3. Priporočena hitrost
4. Mesto, kjer je prehod za pešce
5. Usmerjevalna zapora
6. Prepovedano prehitovanje vseh motornih vozil, razen enoslednih
7. Bližina zaznamovanega prehoda za pešce (150-250 m)
8. Enosmerna cesta
9. Območje, v katerem je trajanje parkiranja časovno omejeno
10. Dvosmerni promet
11. Prepovedan promet za motorna kolesa
12. Obvezna vožnja mimo
13. Omejitev hitrosti
14. Najmanjša dovoljena hitrost
15. Kolesarji na cesti
16. Obvezna smer

5


### Kako ravnate v tej situaciji?

- spremenim smer vožnje in zavijem v desno;
- ustavim;
- počasi prevozim križišče pred rdečim osebnim avtomobilom.



5


### Označite vrstni red vožnje skozi križišče!

- voznik modrega avtomobila, voznik rdečega avtomobila, jaz;
- voznik rdečega avtomobila, jaz, voznik modrega avtomobila.



5


### Kaj pomeni rumena luč na semaforju, ki ne utripa?

- lahko nadaljujem vožnjo, ker se bo prižgala zelena luč;
- ustaviti moram vozilo, razen če tega ni mogoče varno storiti.

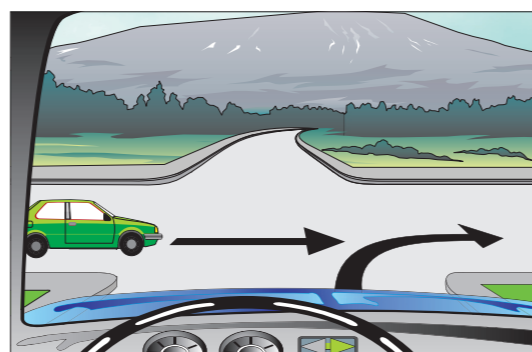


5


### Ali smete zaviti desno pred zelenim avtomobilom?

- da;
- ne.

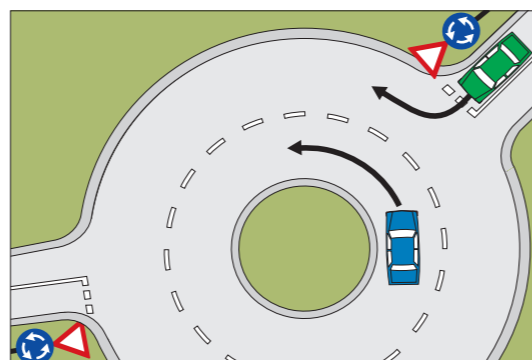


5


### Ali sme zapeljati voznik zelenega avtomobila na krožno križišče?

- sme, vendar šele potem, ko voznik modrega avtomobila odpelje mimo;
- sme, ker z vključitvijo na desni prometni pas nikogar ne ovira ali ogroža;
- sme, saj ima kot desni prednost pred voznikom modrega avtomobila.



5


### Vozite za voznikom kolesa s pomožnim motorjem. Kako boste ravnali?

- reakcija voznika kolesa s pomožnim motorjem je bila nepričakovana, zato ga z zvočnim znakom opozorim;
- zmanjšam hitrost, ker sem predvideval, da bo voznik kolesa s pomožnim motorjem zaradi odpiranja vrat moral zapeljati proti sredini vozišča.



3


### Ali mora voznik skrbeti za čistost stekel na avtomobilu?

- ni potrebno, ker to ne vpliva na varnost vožnje;
- da, saj čista stekla omogočajo dobro vidljivost.

3


### Kako boste vozili na poledenelem vozišču na mostu?

- zmanjšam hitrost in se izogibam naglemu pospeševanju in zaviranju;
- prestavim v nižjo prestavo, da ima motor večjo moč;
- pospešim, da čim hitreje pridem na suho cesto.



5


### Ali je takšno prehitovanje dovoljeno?

- da;
- ne.

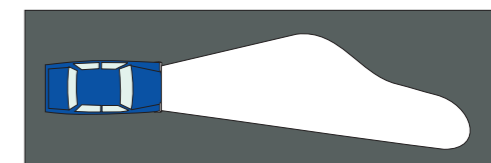


2


### Zakaj mora biti svetlobni snop zasenčenih žarometov na desni strani daljši kot na levi?

- da voznik lažje opazi pešca ali kolesarja ob robu vozišča;
- da voznik osvetli pot pešcem ali kolesarjem.



4


### Ali je ravnanje voznika rdečega avtomobila pravilno?

- da, ker je omogočil modremu avtomobilu vključitev na avtocesto;
- ne, ker bi moral z zaviranjem omogočiti vključitev modrega avtomobila.

