

4

Ali mora voznik med vožnjo opazovati tudi promet za vozilom?

- da, vendar samo pred spremembo smeri vožnje;
- da, ker je taka vožnja varnejša;
- ne, ker s tem zmanjšuje pozornost na promet pred seboj.



3

Ali sme policist pridržati voznika, ki je vozil pod vplivom alkohola in obstaja nevarnost, da bo z vožnjo kljub prepovedi nadaljeval?

- ne;
- da.



4

Katera vozila od navedenih smete voziti z vozniskim dovoljenjem za vožnjo motornih vozil kategorije B?

- traktorje;
- tovorna vozila do 3500 kg največje dovoljene mase;
- tovorna vozila do 7500 kg največje dovoljene mase.

4

Ponoči vozite proti prehodu za pešce. Na pločniku stoji pešec s kresničko. Kaj storite?

- uporabim opozorilne znake;
- zmanjšam hitrost in mu omogočim prehod čez cesto.



5

Kako ravnate, ko pripeljete do znaka, ki ga vidite na sliki?

- zmanjšam hitrost in sem pozoren, ker se je zgodila prometna nesreča;
- ustavim in čakam na ustrezen znak policista;
- znak me opozarja, da vozim v premajhni varnostni razdalji.



OCENA:

PODPIS OCENJEVALCA:


Število točk: _____ je – ni opravi(a) _____

Ime in priimek _____ Podpis _____ Datum _____


NAVODILO ZA REŠEVANJE TESTA

Na teoretičnem delu voznškega izpita je potrebno odgovoriti na več vprašanj. Pomen prometnih znakov označite tako, da v kvadrat pod prometnim znakom vpišete tisto številko, ki v opisih pod prometnimi znaki označuje pravilni pomen. Na vprašanja odgovorite tako, da vpišete znak (X) v kvadrat pred **pravilnim odgovorom**. Pri ostalih vprašanjih vpišite odgovor v določen prostor. Če na vprašanje ne odgovorite ali ne označite odgovora, pomeni, da niste pravilno odgovorili.

Na črto vpišite razdaljo od kraja postavitve prometnega znaka (izven naselja) do kraja, ki ga označuje!



Označite pomen prometnih znakov!



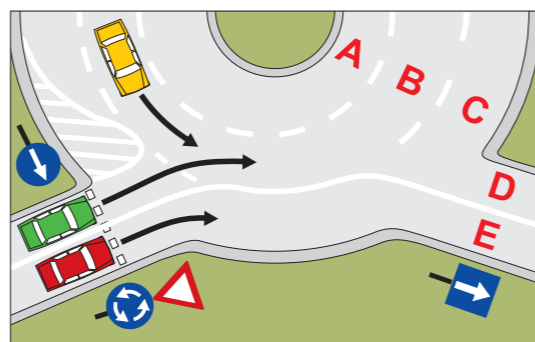
1. Nevaren spust
2. Obvezna vožnja mimo po desni strani
3. Potek prednostne ceste
4. Konec prednostne ceste
5. Cesta, rezervirana za motorna vozila
6. Prepovedan promet za motorna vozila
7. Dovoljene smeri
8. Avtocesta
9. Nevaren ovinek
10. Konec kolesarskega pasu
11. Križišče s stransko cesto
12. Križišče s prednostno cesto – ustavi čez 100 m
13. Križišče enakovrednih cest
14. Kolesarska steza ali pot
15. Ustavi
16. Prepovedan promet v eno smer za vsa vozila

B (5.0)

5

Ali smeta zeleni in rdeči osebni avtomobil hkrati zapeljati na križišče?

- da;
- ne.



5

Ali smete pri takem položaju policista prevoziti križišče pred rdečim avtomobilom?

- da;
- ne.



5

V katero smer lahko nadaljujete vožnjo?

- v levo;
- v desno;
- naravnost.



5

Izberite pravilen vrstni red vožnje skozi križišče!


- modri avtomobil, rdeči avtomobil, moj avtomobil;
- rdeči avtomobil, moj avtomobil, modri avtomobil.



5

Katero izmed treh vozil, ki jih vidimo na sliki, ne vozi pravilno?

- zeleno, ker ne bi smelo voziti vzporedno z rumenim vozilom;
- rdeče, ki pelje po levem prometnem pasu;
- rumeno, ki bo že na samem križišču zavilo desno pred zeleno vozilo in zapeljalo z levega na desni prometni pas.



5

V taki situaciji:

- uporabim zvočni opozorilni znak in z nezmanjšano hitrostjo nadaljujem vožnjo;
- ustavim in počakam, da se otroci umaknejo.



3

Tovor, ki ga vozite na prtljažniku na strehi avtomobila, ne sme biti težji, kot ga dopušča proizvajalec vozila. Če naložite več:

- se zmanjša stabilnost vozila,
- je avto bolj obtežen in ga lažje vodim skozi ovinke.



4

Vožnja s prekratko varnostno razdaljo je:

- nevarna, ker voznik nima časa, da bi primerno ukrepal, če se vozilo pred njim naglo ustavi;
- sprejemljiva, če je voznik mlad in ima hitre reakcije;
- varna, če vozilo s prekratko varnostno razdaljo vozi za nami.

3

Katere luči praviloma uporabljate pri vožnji ponoči, razen v predoru in na cesti, osvetljeni s cestno razsvetljavo?

- z dolgim snopom svetlobe;
- zasenčene;
- pozicijske.

2

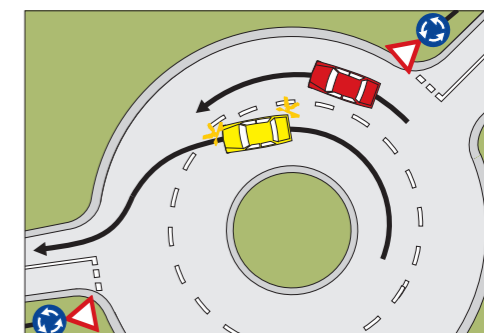
Kolikšno razdaljo prevozi vozilo v 1 sekundi (povprečni reakcijski čas voznikov v cestnem prometu), če vozi s hitrostjo 120 km/h?

- 38 do 42 m;
- 32 do 37 m;
- 27 do 29 m.

4

Ali sme voznik rumenega avtomobila zapeljati na desni prometni pas pred rdečim avtomobilom?

- sme, ne glede na okoliščine, saj ga mora voznik rdečega avtomobila počakati;
- sme, vendar le, če s premikom ne bi oviral ali ogrozil voznika rdečega avtomobila;
- ne sme.



5

Ali smete prehiteti pred vami vozeče vozilo, ko vas je že začelo prehitovati vozilo, ki vozi za vami?

- ne smem;
- smem;
- smem, vendar le, če je cesta dovolj široka.