

Po kateri strani vozišča mora voznik voziti vzvratno?

- 3
- po levi ali desni;
 - po tisti strani, po kateri je pred tem vozil naprej;
 - po nasprotni strani od tiste, po kateri je doslej vozil naprej.

V primeru zastoja v predoru morate:

- 4
- vklopiti varnostne utripalke;
 - vklopiti žaromete z dolgim snopom svetlobe;
 - voziti vzvratno.



Kakšno razdaljo prevozi vozilo v povprečnem reakcijskem času (1 sekunde), če vozi z hitrostjo 60 km/h?

- 3
- 13 do 15 m;
 - 16 do 20 m;
 - 20 do 24 m.

Ali mora voznik, ki bo dalj časa (več kot 3 minute) čakal na parkirnem prostoru, ugasniti motor?

- 2
- da;
 - ne.

Kaj pomeni poševna bela neprekinjena črta na sliki?

- 4
- označuje začetek pospeševalnega pasu;
 - označuje konec zaviralnega pasu;
 - označuje konec pospeševalnega pasu.



Ali sme voznik ustaviti ali parkirati vozilo na pločniku?

- 4
- lahko ustavi ali parkira, če je pločnik dovolj širok, da ne ovira pešcev;
 - lahko le ustavi za krajši čas;
 - lahko ustavi ali parkira, če je to dovoljeno s prometnim znakom.

Ali mora voznik, ko vozi skozi naselje, omogočiti vključitev v promet avtobusu, kadar ta zapušča postajališče, ki je izven vozišča?

- 4
- ne, razen v primeru, če so za njim druga vozila;
 - ne, ker se vsako vozilo lahko vključi v promet le, če ne ovira drugih;
 - da, vendar se mora tudi voznik avtobusa vključiti tako, da ne ogroža drugih.

OCENA:

PODPIS OCENJEVALCA:

Število točk: _____ je – ni opravil(a) _____

Ime in priimek _____ Podpis _____ Datum _____

NAVODILO ZA REŠEVANJE TESTA

Na teoretičnem delu vozniškega izpita je potrebno odgovoriti na več vprašanj. Pomen prometnih znakov označite tako, da v kvadrat pod prometnim znakom vpišete tisto številko, ki v opisih pod prometnimi znaki označuje pravilni pomen. Na vprašanja odgovorite tako, da vpišete znak (X) v kvadrat pred **pravilnim odgovorom**. Pri ostalih vprašanjih vpišite odgovor v določen prostor. Če na vprašanje ne odgovorite ali ne označite odgovora, pomeni, da niste pravilno odgovorili.


Na črto vpišite razdaljo od kraja postavitve prometnega znaka (izven naselja) do kraja, ki ga označuje!



..... m



..... m



..... m

Označite pomen prometnih znakov!




01. Enosmerna cesta
02. Križišče s prednostno cesto
03. Najmanjša dovoljena hitrost
04. Dvosmerni promet
05. Mesto, kjer je prehod za pešce
06. Steza za pešce
07. Omejitev hitrosti
08. Prepovedano parkiranje
09. Bližina (150-250 m) prehoda za pešce
10. Prepovedan promet za vozila večje dolžine od določene
11. Priporočena hitrost
12. Otroci na cesti
13. Bližina (150-250 m) dvosmernega prometa
14. Prepovedana ustavitve in parkiranje
15. Prepovedan promet za vsa motorna vozila, razen enoslednih
16. Prepovedan promet za tovorna vozila

B (6.0)

5

Rumena luč utripa. Kaj storite?

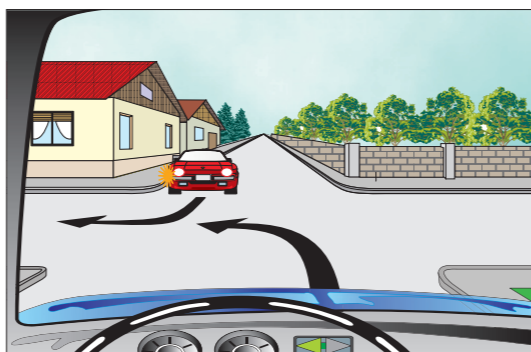
- vozim previdno in ustavim, če prednostna cesta ni prosta;
- obvezno ustavim in počakam zeleno luč.



5

Ali sme rdeči avtomobil prvi prevoziti križišče?

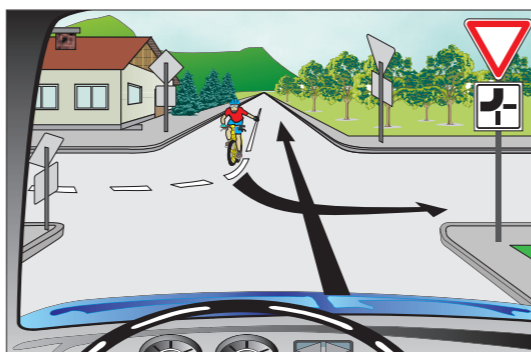
- da;
- ne.



5

Kdo prvi prevozi križišče?

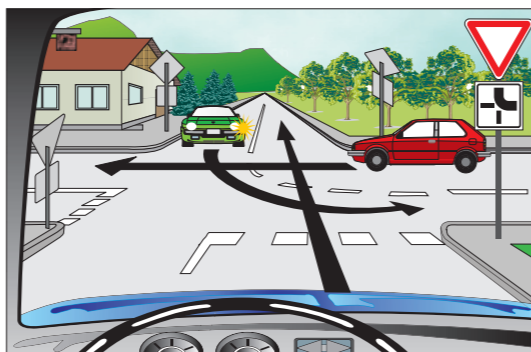
- jaz;
- kolesar.



5

Po kakšnem vrstnem redu prevozijo vozniki križišče?

- voznik rdečega avtomobila, jaz, voznik zelenega avtomobila;
- voznik zelenega avtomobila, jaz, voznik rdečega avtomobila;
- voznik zelenega avtomobila, voznik rdečega avtomobila, jaz.



5

Ali sme policijski avtomobil, ki je na nujni vožnji, prvi prevoziti križišče?

- da;
- ne.



4

Kaj pomeni znak policista na križišču?

- vsi vozniki morajo ustaviti vozila, razen tistih, ki so že na križišču in tistih, ki ne morejo varno ustaviti;
- vsi vozniki morajo ustaviti vozila.



4

Kadar prične deževati, se na vozišču ustvari tanek sloj vode, prahu in olja, kar povzroči drsečo, mastno površino. Voznik se mora zavedati, da:

- je tako vozišče zelo drseče že pri rahlem dežju;
- če ima dobre pnevmatike na vozilu, se nima česa bati;
- je vožnja varnejša, ker je cestišče izprano.



3

Pravilno nastavljeno naslonjalo za glavo preprečuje poškodbe, če je v višini:

- vratu;
- glave;
- ramen.

2


Kje sme ustaviti voznik svoje vozilo na cesti izven naselja (razen ustavitve zaradi okvare)?

- vselej izven vozišča;
- na vozišču.

4

Do kje velja prometni znak iz skupine izrecnih odredb?

- do prvega naselja;
- do znaka, ki ga preklicuje, ali do prvega križišča;
- do cestninske postaje.



3

Voznik vozila, ki zapušča avtocesto, mora:

- na desnem prometnem pasu močneje zmanjšati hitrost vozila in čim prej zapeljati na zaviralni pas;
- čim prej zapeljati na zaviralni pas in šele tu močneje zmanjšati hitrost.



2

Zakaj morate izključiti delovanje motorja, kadar morate vožnjo za daljši čas (več kot 3 minute) prekiniti?

- zaradi pregrevanja motorja, kar lahko povzroči njegovo okvaro;
- zato, da se akumulatorska baterija ne izprazni;
- zaradi izpušnih plinov, ki onesnažujejo okolje.